

Họ và tên:..... Lớp 1A

# VUI XUÂN - VUI HỌC

*Các con học sinh yêu quý !*

**Nhân dịp đón Xuân Quý Mão 2023, cô giáo chủ nhiệm lớp xin gửi đến toàn thể các con học sinh cùng gia đình lời chúc mừng năm mới tốt đẹp nhất!**

**Chúc các con cùng gia đình một năm mới**

**DỒI DÀO SỨC KHỎE, HẠNH PHÚC, AN KHANG- THỊNH VƯỢNG !**

*Năm mới – Thắng lợi mới!*

*KHAI BÚT-KHAI XUÂN là một nét đẹp văn hóa của ông cha ta từ xưa đến nay, các con hãy bớt chút thời gian làm các bài tập sau đây để vui xuân mà không quên chữ nhé!*





*Con đọc bài thơ  
dưới đây để  
dành tặng gia  
đình nhé!*

**Năm mới bé chúc  
Cả nhà hạnh phúc  
Sung túc đủ đầy  
Gặp nhiều vận may  
Lộc tràn xuân mới  
Niềm vui phơi phới  
Thịnh vượng an khang  
Tấn tới giàu sang  
Dồi dào sức khỏe  
Kính chúc, kính chúc!**





# Vui Tiếng Việt Rinh lì xì





# Chặng 2

## Nhanh tay – nhanh mắt



Con hãy đọc và nối các từ thích hợp vào hình ảnh dưới đây nhé!



Con  
bướm

Bánh  
chưng

Mứt  
tết

Con  
trâu

Bánh  
tét

Quả  
gấc



## Chặng 3 Thử tài khéo léo



*Tết sắp tới rồi, chúng ta hãy cùng làm những chiếc bánh thật ngon để dành tặng gia đình. Tuy nhiên còn thiếu một số dụng cụ và nguyên liệu làm bánh, các bạn nhỏ hãy tìm và viết lại giúp tớ nhé!*

Phần I/ Điền vào chỗ trống:

a/ **ư**ng hay **ơ**ng ?



Máy đánh tr.....



Lò n.....

b/ **ă**n hay **â**n ?



Cái c.....



Cán l..... bột





Phần II/ Tìm và viết lại những nguyên liệu làm bánh:

a/ Một từ chứa tiếng có vần ương:.....

b/ Một từ chứa tiếng có vần ương:.....


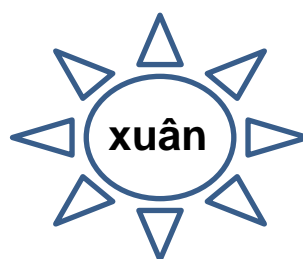
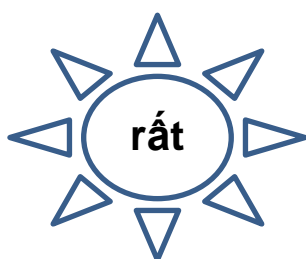




c/ Một từ chứa tiếng có vần ôt:.....

d/ Một từ chứa tiếng có vần uôi:.....

e/ Một từ chứa tiếng có vần âu:.....



Các bạn hãy giúp Đôrêmon sắp xếp các từ dưới đây để tạo thành câu nhé!









# Nhà toán học tài ba



## VÒNG 1 TÌM CẶP BẰNG NHAU

Bạn hãy ghi các cặp số từ 1 đến 10 vào các vòng tròn sao cho 2 ô có giá trị bằng nhau ghi cùng một số. Tô màu vào các cặp số bằng nhau.

$5 + 4 - 1$ <input type="text"/>	$6 + 1$ <input type="text"/>	$1 + 3$ <input type="text"/>	$8 - 3 - 4$ <input type="text"/>
$5 - 5 + 1$ <input type="text"/>	$9 + 1$ <input type="text"/>	$9 - 4$ <input type="text"/>	$8 - 3 - 3$ <input type="text"/>
$6 - 1 - 2$ <input type="text"/>	$2 + 7 - 7$ <input type="text"/>	$8 + 1$ <input type="text"/>	$8 - 4 - 1$ <input type="text"/>
$6 - 2$ <input type="text"/>	$6 + 3 - 1$ <input type="text"/>	$5 + 4 - 3$ <input type="text"/>	$5 + 5$ <input type="text"/>
$1 + 2 + 3$ <input type="text"/>	$9 - 3 + 1$ <input type="text"/>	$9$ <input type="text"/>	$3 + 2$ <input type="text"/>



## VÒNG 2 VƯỢT CHƯỚNG NGẠI VẬT



1. Đúng ghi Đ, sai ghi S vào ô trống:

$1 + 2 + 3 = 6$

$3 - 3 = 3 + 3$

$3 + 3 + 0 = 6$

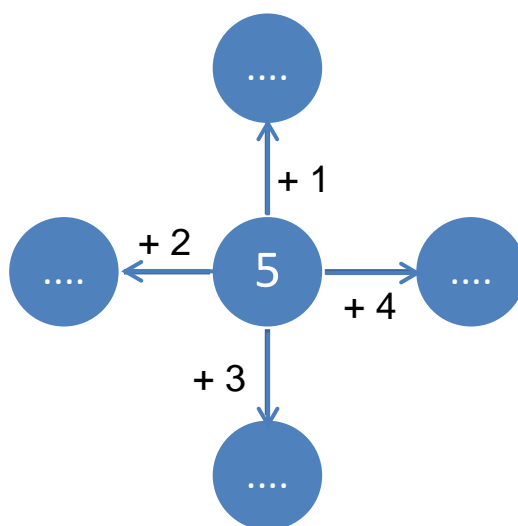
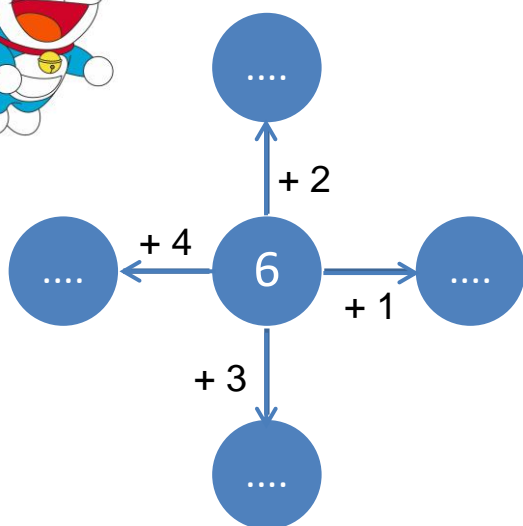
$5 - 2 = 2 + 1$

$1 + 4 + 0 = 6$

$3 - 0 = 3 + 0$



## 2. Bạn hãy cùng Đôrêmon hoàn thành chong chóng tre dưới đây



### VÒNG 3 THỬ TÀI QUAN SÁT



#### 1. Điền dấu > ; < ; = vào chỗ chấm

$6 + 3 \dots 10 - 3$	$4 + 1 \dots 5 - 0$	$8 - 8 \dots 7 - 7$
$7 + 2 \dots 4 + 3$	$10 - 8 \dots 1 + 3$	$5 - 3 \dots 3 - 2$
$10 - 1 \dots 6 + 2$	$6 + 4 \dots 9 - 5$	$4 + 3 \dots 7 + 1$

#### 2. Nối phép tính với kết quả thích hợp:

$$4 + 5 - 2$$

$$10 - 3 + 0$$

$$9 - 6 + 4$$

$$6 + 3 - 5$$

1

9

8

7

6

5

4

$$10 - 5 + 3$$

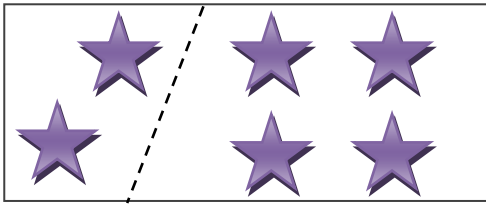
$$0 + 10 - 2$$

$$5 + 3 - 2$$

$$1 + 6 - 2$$



### 3. Viết các phép tính thích hợp:



--	--	--	--	--

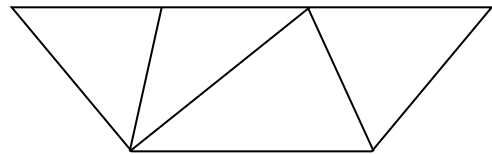
--	--	--	--	--

--	--	--	--	--

--	--	--	--	--

### 4. Trong hình bên có:

..... hình tam giác.



## VÒNG 4 SIÊU TRÍ TUỆ

### 1. Giải ma trận

1	=	5	+	3	=	8
+	5	-	4	+	9	-
7	=	10	-	7	=	3
=		=		=		=
9	+	1	=	10		5
4	=	9	-	3	=	6
0	+	7	=	8	2	3

Có 6 phép tính đúng trong ma trận bên. Bạn nhỏ hãy tìm và khoanh trong phép tính đúng (theo hàng ngang hoặc hàng dọc) đó như mẫu nhé!



## 2. Số?



Các bạn hãy giúp Dôrêmon điền số 1, 2, 3, 4 vào một ô trống, sao cho cộng 3 số theo cột dọc hay theo hàng ngang đều bằng 5 nhé!

0		

	0	

	0	

## 3. Tư duy nhanh

Ba bạn Dôrêmon, Nôbita và Xuka cùng ngồi một bàn học. Bạn Nôbita ngồi ở bên phải bạn Xuka, bạn Xuka ngồi ở bên phải bạn Dôrêmon. Hỏi bạn nào ngồi giữa hai bạn còn lại? Em hãy viết tên bạn ngồi giữa vào ô trống.



.....